


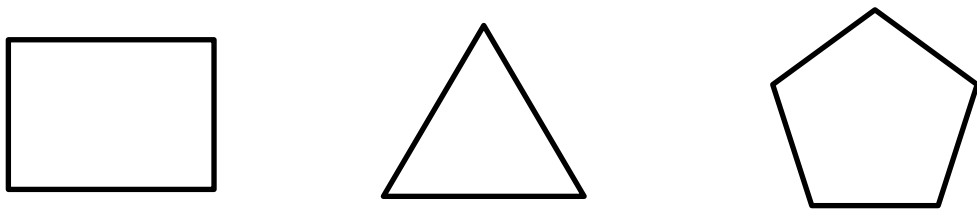


نام و نام خانوادگی:
 پایه: دوم
 نام پدر:
 تعداد صفحه سؤال: ۲ صفحه

جمهوری اسلامی ایران
 اداره ی کل آموزش و پرورش شهر تهران
 اداره ی آموزش و پرورش شهر تهران منطقه ۴ تهران
 دبستان غیردولتی دخترانه سرای دانش واحد رسالت
 جمع بندی پایان ترم نوبت اول سال تحصیلی ۱۴۰۲ - ۱۴۰۱

نام درس: ریاضی
 نام دبیر: مریم سادات آقاحسینی
 تاریخ امتحان: ۱۷ / ۱۰ / ۱۴۰۱
 ساعت امتحان: ۰۷:۳۰ صبح / عصر
 مدت امتحان: ۹۰ دقیقه

ردیف	نمره به عدد:		نمره به حروف:	
	نام دبیر:	تاریخ و امضاء:	نام دبیر:	تاریخ و امضاء:
۱	الگوهای زیر را ادامه دهید: ۱۰۵-۱۱۰-..... ۱۳-۱۶-..... 			
۲	۷ دسته ی ده تایی منهای ۴ دسته ی ده تایی می شود..... $۷۰ - ۴۰ =$ دسته ی ده تایی به اضافه دسته ی ده تایی می شود..... $۳۰ + ۵۰ =$			
۳	مه‌رسانا ۵۴ شاخه گل داشت، او ۳۹ شاخه گل را به کارینا داد. حالا او چند شاخه گل دارد؟ (با رسم شکل)			
۴	جمع و تفریق های زیر را روی محور نشان دهید؟ $۳۰ + ۳۰ =$  $۹ - ۱۸ =$ 			
۵	تعداد ضلع و گوشه و خط تقارن های شکل های زیر را بنویسید و خط تقارن آن ها را رسم کنید: 			

حاصل جمع و تفریق های زیر را به دست آورید: (تقریبی)

$$\begin{array}{r} - \quad 75 \\ \quad 32 \\ \hline \end{array} \rightarrow \underline{\hspace{2cm}}$$

$$\begin{array}{r} + \quad 67 \\ \quad 34 \\ \hline \end{array} \rightarrow \underline{\hspace{2cm}}$$

۶

ساعت چند است؟



۷

جواب جمع و تفریق های زیر را به دست آورید: (فرآیندی)

$$\begin{array}{r} 57 \\ - 36 \\ \hline \end{array}$$

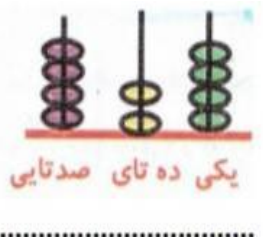
$$\begin{array}{r} 63 \\ + 16 \\ \hline \end{array}$$

۸

جاهای خالی را پر کنید:



ریال.....



۱۰۰	۱۰	۱۰
۱۰۰	□□	□□
۱۰۰		

صدگان	دهگان	یکان

۹


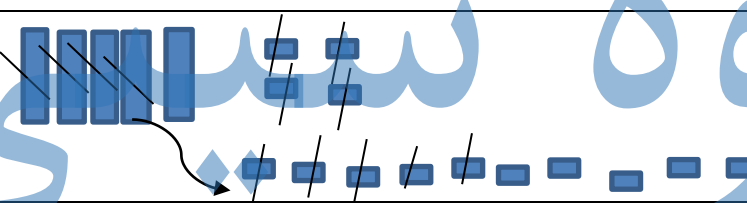
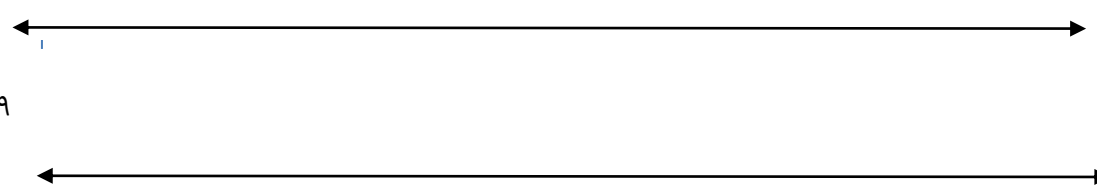
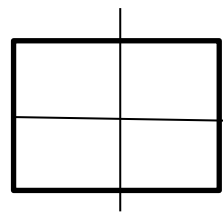
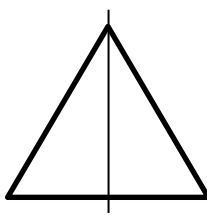
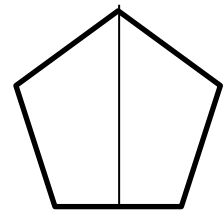
با کارت ۳ و ۹ و ۰ چند عدد دو رقمی می توان نوشت؟

۱۰



اداره ی کل آموزش و پرورش شهر تهران
 اداره ی آموزش و پرورش شهر تهران منطقه ۴ تهران
 دبستان غیر دولتی دخترانه سرای دانش واحد رسالت
کلید سؤالات جمع بندی پایان ترم نوبت اول سال تحصیلی ۱۴۰۲ - ۱۴۰۱

نام درس: ریاضی
 نام دبیر: مریم سادات آقامسینی
 تاریخ امتحان: ۱۴۰۱/۱۰/۱۷
 ساعت امتحان: ۷:۳۰ صبح - عصر
 مدت امتحان: ۹۰ دقیقه

ردیف	راهنمای تصحیح	محل مهر یا امضاء مدیر
۱		۱۰۵۱۱۰۱۱۵۱۲۰۱۲۵۱۳۰۱۳۵۱۴۰۱۴۵ ۱۶۱۳۱۰۷۴۱ 
۲	۷ دسته ی ده تایی منهای ۴ دسته ی ده تایی می شود. ۳ دسته ی ده تایی $۷۰ - ۴۰ = ۳۰$ ۵ دسته ی ده تایی به اضافه ۳ دسته ی ده تایی می شود ۸ دسته ی ده تایی $۳۰ + ۵۰ = ۸۰$	
۳		$۳۹ - ۵۴ = ۱۵$
۴		$۳۰ + ۳۰ = ۶۰$ $۹ - ۱۸ = ۹$
۵	تعداد ضلع و گوشه و خط تقارن های شکل های زیر را بنویسید و خط تقارن آن ها را رسم کنید:   	ضلع ۴ گوشه ۴ خط تقارن ۲ ضلع ۳ گوشه ۳ خط تقارن ۱ ضلع ۵ گوشه ۵ خط تقارن ۱

$$\begin{array}{r} 75 \\ - 32 \\ \hline \end{array} \rightarrow \begin{array}{r} 80 \\ - 30 \\ \hline 50 \end{array}$$

$$\begin{array}{r} 67 \\ + 34 \\ \hline \end{array} \rightarrow \begin{array}{r} 70 \\ + 30 \\ \hline 100 \end{array}$$

۶



۲:۴۰



۱۲:۱۵

دوازده و ربع

۷

$$\begin{array}{r} 57 \\ - 36 \\ \hline 21 \end{array}$$

$$\begin{array}{r} 63 \\ + 16 \\ \hline 79 \end{array}$$

۸

جزوه سیپی

100 10 10

100 10 10

100

صدگان	دهگان	یکان

۳۲۶



۹

۳۲۶



ریال

۱۹۰

۱۹۰

چهار عدد دو رقمی (۹۳ - ۹۰ - ۳۹ - ۳۰)

۱۰

امضاء:

نام و نام خانوادگی مصحح :

جمع بارم : ۲۰۰ شماره